

ETE Centro Paula Souza – Curso Técnico em Música (Ourinhos – SP)

Prof. Marcelo Mello

Estruturação e Linguagem Musical I (2009 – 2º bim.)

EXERCÍCIOS DE REFORÇO - 1º BIMESTRE DE 2009

1. Observe as diferenças de altura indicadas na tabela abaixo, e complete os espaços em branco com as diferenças de altura adequadas:

DO	DO # RE♯	RE	RE # MI♯	MI	FA	FA # SOL♯	SOL	SOL # LA♯	LA	LA # SI♯	SI	DO
----	-------------	----	-------------	----	----	--------------	-----	--------------	----	-------------	----	----

a. MI – SOL: _____ semitons

f. FA – DO#: _____ tons

b. RE – FA#: _____ semitons

g. SI – RE#: _____ semitons

c. LA – DO: _____ semitons

h. SOL♭ – DO: _____ tons

d. DO – LA♭: _____ tons

i. MI♭ – SOL♭: _____ semitons

e. DO# – LA: _____ tons





j. LA♭ – MI♭: _____ semitons

2. Em cada exercício abaixo, indique:





- o nome da clave, e o local onde está a nota que nomeia a clave;
- o nome das notas assinaladas;
- a diferença de altura entre elas.







3. Divida cada figura de tempo abaixo em DUAS figuras de tempo menores de valor IGUAL entre si:

A.  = _____	B.  = _____
C.  = _____	D.  = _____





4. Divida cada pausa indicada abaixo em DUAS pausas menores de valor IGUAL entre si:

A.  = _____	B.  = _____
C.  = _____	D.  = _____

5. Divida cada figura de tempo abaixo em QUATRO figuras de tempo menores de valor IGUAL entre si:

A.  = _____	B.  = _____
C.  = _____	D.  = _____

6. Divida cada pausa abaixo em QUATRO pausas menores de valor IGUAL entre si:

A.  = _____	B.  = _____
C.  = _____	D.  = _____