
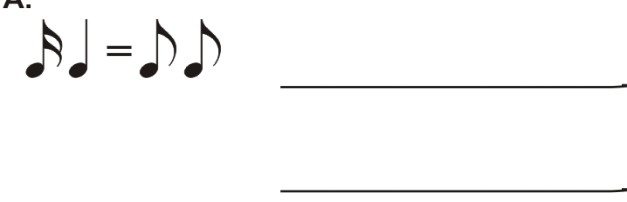

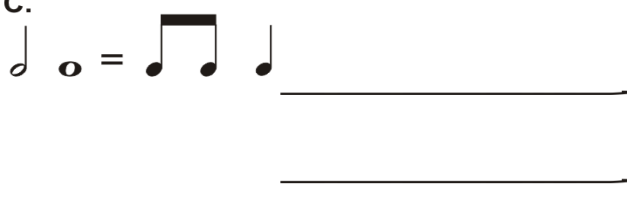



EXERCÍCIOS DE REFORÇO 2 - 1º BIMESTRE DE 2009

7. Reescreva as figuras de tempo colocando as notas da figura de tempo de duração mais alta (mais longas) para as figuras de tempo de duração mais baixa (mais curtas), e complete as igualdades:

<p>Exemplo:</p> 
<p>A.</p> 
<p>B.</p> 
<p>C.</p> 
<p>D.</p> 

8. Determine as fórmulas de compasso dos exercícios abaixo:

A. B. C.

D. E. F.

9. Determine as unidades de pulsação e a quantidade delas para cada fórmula de compasso indicada abaixo:

A.	$\frac{3}{4}$
B.	$\frac{2}{4}$
C.	$\frac{6}{8}$
D.	$\frac{12}{8}$
E.	$\frac{2}{2}$